



QCM : Pourcentages et taux d'évolution


A chaque question, il y a une, et une seule, bonne réponse. Chaque bonne réponse donnée compte 2 points, tandis qu'une mauvaise réponse enlève 0,5 point. L'absence de réponse ne rapporte ni n'enlève aucun point.

 Q1: Dans une assemblée de 150 personnes, il y a 93 femmes, soit un pourcentage de:


- 93 %
- 62 %
- 0,93 %
- 0,62 %

 Q2: Au premier janvier 2009, la république française comptait 65 073 482 habitants, dont 42 448 977 des hommes, soit un pourcentage de, environ:

- 0,96 %
- 9,6 %
- 0,096 %
- 96 %

 Q3: Le prix hors taxes d'un objet est 120 dh. Le taux de TVA est de 5 %. Le montant de la TVA est donc de :

- 12 dh
- 5 dh
- 6 dh
- 600 dh

 Q4: Le prix hors taxes d'un objet est 250 dh. Le montant des taxes sur ce produit est de 49 dh. Le taux (pourcentage) de ces taxes est de :

- 19,6 %
- 5 %
- 4,8 %
- 21,2 %



Q5: Le montant de la TVA, à 19,6 %, d'un objet est de 23,52 dh. Cet objet vaut, TTC:

- 120 dh
- 124,54 dh
- 143,52 dh
- 23,52 dh



Q6: Dans une assemblée de 500 personnes, il y a 36 % de femmes. 25 % de ces femmes ont plus de 50 ans. Combien de femmes dans cette assemblée ont plus de 50 ans ?

- 180
- 125
- 36
- 45



Q7: Un commerçant a augmenté le prix de tous ses articles en vente de 12% l'année dernière. Cette année il augmente à nouveau leur prix, de 16% cette fois. Un article en vente valait initialement, avant la première augmentation de l'année dernière, 125 dh. Cette année, son nouveau prix est de:

- 140 dh
- 162,4 dh
- 160 dh
- 145 dh